

[1] 次の文章を読んで、あとの問いに答えなさい。

横浜は昨年開港150周年を迎えました。神奈川県ひがの歴史というしと明治以後の横浜を中心にした話題が主に採り上げられますが、開港以前の時代においても重要な史跡しせきがたくさんあります。

原始時代いせきの遺跡は数多くあり、その時代から人々がすでに横浜なつしまに生活していたことがわかります。横浜市金沢区野島やすぐ近くの横須賀市夏島では、当時の人々がゴミなどを捨てた(1)が発見されました。約7000年前の遺跡で、その遺物を見ると海産物など当時の人々の食生活のようすがよくわかります。

紀元前4世紀頃ころ、弥生時代いなさくとなり稲作が日本に伝わった時期では、横浜市磯子区岡村の三殿台遺跡さんとのだいがあり、炭化した米や土器類が当時のままの位置で発見されました。また港北区の大塚遺跡おおつかは数少ない①環濠集落かんごうの遺跡として注目を集めました。

紀元後4世紀以後、②古墳時代こふんになるとヤマト政権が全国の統一をすすめ、中央の政権と結びつきを強めた横浜付近の豪族達もまた小規模の古墳を築きました。7世紀、大化の改新以後、中央政府は③律令制度りつれいを整えて力を強め、国司という役人を中央から地方へ赴任しゆにんさせました。神奈川県さがみは相模国と(2)国にあたり、その役人を通じて中央政府の支配を受けました。平安時代になって律令制度が変質すると地方政治も混乱し、特に関東地方では武士団が多くあらわれました。なかでも935年に(3)は武士団を率いて関東各地を制圧して中央政府に反乱を起こし、都の人々おどろを驚かせました。

1180年に挙兵した源頼朝は相模国の鎌倉かまくらを本拠とし、平家滅亡後はここに幕府を開きました。鎌倉は三方を山で囲まれた天然の要塞ようさいで、交通も不便だったため山の尾根を切り開いた「切り通し」とよばれる道が作られました。その1つ、朝比奈切り通しを越えて金沢に向かうと、(4)が称名寺しょうみやうじに開いた金沢文庫があり、学問を好む者が多く訪れました。鎌倉では建長寺などが栄え、関東における④仏教活動ぶつこうの拠点となりました。戦国時代になると小田原の北条氏など戦国大名が各地にあらわれましたが、最終的に1590年、豊臣秀吉の小田原攻めで北条氏が降伏こうふくしたことによって、全国統一が完成されました。

17世紀初頭、徳川家康が江戸に⑤幕府を開き、豊臣氏を滅ぼすと戦国の世は終わりました。横浜市域の大半は天領とよばれる直轄領ちよつかつりょうで幕府の役人に支配されました。多くの新田が各地で開発され、⑥東海道の宿場しゆくじやうは多くの人々の往来で栄え、周辺の農村は助郷すけごうとよばれる強制的

な手伝いをさせられました。

幕末、ペリー来航によって横浜じょうきやうの状況は一変します。1858年、大老(5)によって日米修好通商条約が結ばれ、翌年横浜が開港されました。貿易が開始され、西洋の文物が数多くもたらされました。外国の領事館は神奈川(現在のJR東神奈川駅付近)の寺院におかれましたが、⑦当時の下級武士達によって外国人が襲撃される物騒な事件が絶えず、1862年には神奈川の近くで薩摩藩士達によって(6)事件が起こりました。しかし、明治維新によって明治政府が開国和親を唱えたと文明開化の風潮に転じ、横浜には新聞社・写真館・クリーニング店・ビール工場・牧場などが日本で最初に作られ、西洋文明の発信地となりました。1872年に横浜駅(現在のJR桜木町駅)から新橋駅まで鉄道が開通したことは有名です。以後、⑧明治・大正時代の日本の発展にともなって横浜も発展しました。関東大震災や太平洋戦争の空襲で市街地が打撃を受けたことがありましたが、戦後、⑨横浜は多くの人々の努力によって復興がすすみ、大きく変化し、現在では日本有数の大都市に発展しました。

問1 文中の(1)～(6)にあてはまる語句を漢字で答えなさい。

問2 下線部①について、集落の周囲が濠(堀)で囲まれている理由として最もふさわしいものを、次の(ア)～(エ)の中から1つ選び、記号で答えなさい。

- (ア) 物資を大量に船で運ぶのに便利なように運河として作ったため。
- (イ) ゴミを大量に捨てるのに便利なように穴が掘られたため。
- (ウ) 当時の稲作の技術では堀のような水田しかできなかったため。
- (エ) 戦国時代の城のように敵が攻めてきた時に守りやすくするため。

問3 下線部②の時代に関する次の各文から時期や内容の正しいものを、次の(ア)～(エ)の中から1つ選び、記号で答えなさい。

- (ア) 金属器がはじめて伝来し、旧来の石器時代よりも進化した。
- (イ) 遣隋使が派遣され、中国の政治のしくみや都のつくり方が日本にもたらされた。
- (ウ) 大仙陵古墳のような巨大な円墳が築かれ、大王の威厳が示された。
- (エ) 大陸からの渡来人によって仏教・儒教・漢字が日本に伝来した。

問4 下線部③について述べた文として正しいものを、次の(ア)～(エ)の中から1つ選び、記号で答えなさい。

- (ア) 太政官のもと、財務省や外務省などの八省がおかれ政治が分担された。
- (イ) 第一条は「和をもって尊しとなし」と定め、豪族同士の争いをいましめた。
- (ウ) 租庸調のほか雑徭や兵役などの重い負担があり、農民達は苦しめられた。
- (エ) 6才以上の男性にのみ口分田があたえられる班田収授法がおこなわれた。

問5 下線部④について、鎌倉時代の仏教に関する文として時期や内容の正しいものを、次の(ア)～(エ)の中から1つ選び、記号で答えなさい。

- (ア) 社会不安を鎮めるため国ごとに国分寺が建てられ、東大寺大仏がつくられた。
- (イ) 法然が浄土宗を、一遍が浄土真宗を開き、阿弥陀如来信仰がさかになった。
- (ウ) 空海が真言宗を、最澄が天台宗を開き、密教がさかになった。
- (エ) 栄西や道元によって禅宗がもたらされ、座禅などの修行が重視された。

問6 下線部⑤について述べた文として正しいものを、次の(ア)～(エ)の中から1つ選び、記号で答えなさい。

- (ア) 御成敗式目という法律を定め、全国の大名は将軍のもとに統制された。
- (イ) 鎖国する以前、東南アジアとの貿易を保護したため、各地に日本町ができた。
- (ウ) 当初キリスト教を公認していたが、島原の乱をきっかけに禁止した。
- (エ) 百姓一揆が増えたために享保の改革がおこなわれ、年貢が減らされた。

問7 下線部⑥について、江戸から上方へ向かう場合、神奈川県内では次のような宿場を通ります。(A)・(B)にあてはまる宿場名の組み合わせとして正しいものを、あとの(ア)～(エ)の中から1つ選び、記号で答えなさい。

神奈川 → (A) → (B) → 藤沢

- (ア) A:鎌倉 B:大船 (イ) A:保土ヶ谷 B:大船
- (ウ) A:保土ヶ谷 B:戸塚 (エ) A:鎌倉 B:戸塚

問8 下線部⑦のような事件の背景となった、当時の思想を何といいますか。次の(ア)～(エ)の中から1つ選び、記号で答えなさい。

- (ア) 公武合体 (イ) 自由民権 (ウ) 尊王攘夷 (エ) 社会主義

問9 下線部⑧について述べた文として正しいものを、次の(ア)～(エ)の中から1つ選び、記号で答えなさい。

- (ア) 日露戦争前後に紡績などの軽工業が発展したが、鉄鋼などの重工業はしばらく発展しなかった。
- (イ) 幕末に結んだ不平等条約では治外法権を認めていたが、日清戦争直前に廃止が決定された。
- (ウ) 日本政府は中国に二十一か条の要求を出し、不平等な条約を結んで満州を併合し、これを植民地とした。
- (エ) 第一次世界大戦の時期、日本は山東半島の青島を攻略し、第二次世界大戦が終了するまで支配した。

問10 下線部⑨について述べた文として誤っているものを、次の(ア)～(エ)の中から1つ選び、記号で答えなさい。

- (ア) 戦前は東京の玄関口として発展した港湾都市だった。しかし戦後、住宅地が次々に建設されて人口が急激に増加し、東京のベッドタウンとしての役割が大きくなった。
- (イ) かつて沿岸部ではノリ養殖などで漁業が栄えていた。しかし、高度成長期に工場建設で海岸は埋め立てられ、横浜市の漁業は衰退せざるをえなくなった。
- (ウ) 戦後、飛行機の発達によって港湾利用が衰退し、その機能を縮小するため港の主要部は埋め立てられた。その跡地が山下公園であり、大榎橋は観光用に残された。
- (エ) 高度成長期に計画された「横浜みなとみらい21地区」はその後本格的に造成され、横浜ランドマークタワーなどが建設された。この地区は今日なお未完成で、建築工事が続けられている。

[2] 次の文章を読んで、あとの問いに答えなさい。

神奈川県では、今年の4月1日から、学校や病院、県の施設などの公共機関や公共性の強い場所での喫煙を全面的に禁止する条例が施行されます。

こうした条例の施行に対して、「たばこは法律で定められた大人の嗜好品である」という主張を背景に、反論もあるようです。しかし、喫煙や受動喫煙の健康被害が叫ばれるようになってからは、各地の地方公共団体がさまざまな喫煙に関する条例が制定されています。たとえば東京都千代田区のように禁煙地区を指定し、ルールを破った場合、罰金を科すケースもあります。

このように、地方公共団体は一定の範囲内で個別に独自のルールを条例として定めることが認められています。このことに関連した日本国憲法条文を以下に示します。

◎第92条〔地方自治の基本原則〕

地方公共団体の組織及び運営に関する事項は、①地方自治の本旨に基いて、法律でこれを定める。

◎第93条〔地方公共団体の機関、その直接選挙〕

第1項

地方公共団体には、法律の定めるところにより、その議事機関として②議会を設置する。

第2項

③地方公共団体の長、その議会の議員及び法律の定めるその他の吏員は、その地方公共団体の住民が、直接これを( 1 )する。

◎第94条〔地方公共団体の権能〕

地方公共団体は、その財産を管理し、事務を処理し、及び( 2 )を執行する権能を有し、④法律の範囲内で条例を制定することができる。

◎第95条〔⑤特別法の住民投票〕

1の地方公共団体のみに適用される特別法は、法律の定めるところにより、その地方公共団体の住民の投票においてその過半数の同意を得なければ、国会は、これを制定することができない。

問1 憲法の条文中の(1)・(2)にあてはまる語句を漢字で答えなさい。

問2 下線部①について、「地方自治の本旨」とは、「地域の住民が地域の自治を担うという考え方」＝「住民自治」と、「自治体が決めたことが尊重されるという考えかた」＝「団体自治」、の2つのものであると、一般的に説明されます。このことをふまえて、次の(A)～(D)について、「住民自治」に該当するものは(A)、「団体自治」に該当するものは(I)、どちらにも該当しないものは(U)と答えなさい。

- (A) 市議会の議員を直接選挙で選ぶ。
- (B) 独自の税を自治体の住民に課す。
- (C) パスポートの発行を代行する。
- (D) 公立学校の教員配置を決定する。

問3 下線部②について説明した文として正しいものを、次の(A)～(E)の中から1つ選び、記号で答えなさい。

- (A) 自治体の議会も国会同様二院制である。
- (I) 議員の任期は衆議院議員と同じである。
- (U) 議員の被選挙権は参議院と同じである。
- (E) 議会の定員は国内のどの議会も同じである。

問4 下線部③について説明した文として正しいものを、次の(A)～(E)の中から1つ選び、記号で答えなさい。

- (A) 住民から直接選挙で選ばれているので、議会から不信任を受けることはない。
- (I) 国会議員との兼職は認められていない。
- (U) 国務大臣との兼職は認められていない。
- (E) 住民から選ばれた議会を解散することはできない。

問5 下線部④について、現在わが国の法律の最上級に位置する法の正式名称を漢字で答えなさい。

問6 下線部⑤について説明した文として正しいものを、次の(A)～(E)の中から1つ選び、記号で答えなさい。

- (A) この投票は憲法制定以来一度もおこなわれたことがない。
- (I) 原発や産廃処理施設誘致の賛否を問うために、これまで各地でおこなわれた住民投票は、この条文に基づく住民投票とは関係がない。
- (U) この投票は、その地区の住民が投票権を持つので、国籍を持たない在住外国人も投票が可能である。
- (E) この投票は、住民投票を経るので、国会の審議は衆参どちらかの議院でおこなわれればよい。

問7 現在のわが国における地方公共団体の数に最も近いものを、次の(A)～(E)の中から1つ選び、記号で答えなさい。

- (A) 50                      (I) 600                      (U) 1800                      (E) 3000

問8 次にあげる言葉はトックビル（フランス人：1805～1859）が地方自治について語ったものです。（Ⅰ）・（Ⅱ）にあてはまる語句の組み合わせとして正しいものを、あとの（ア）～（エ）の中から1つ選び、記号で答えなさい。

「自治制度が（Ⅰ）に対して持つ関係は、小学校が（Ⅱ）に対して持つ関係と同じである」

- （ア） Ⅰ：学問      Ⅱ：自由  
（イ） Ⅰ：自由      Ⅱ：学問  
（ウ） Ⅰ：民主主義      Ⅱ：学校  
（エ） Ⅰ：学校      Ⅱ：民主主義

問9 「地方自治」に関する規定は、大日本帝国憲法には全く存在しませんでした。その最も大きな理由を1行程度で答えなさい。

問10 地方公共団体が制定した条例に基づく、自治体独自の税（法定外目的税）ではないものを、次の（ア）～（エ）の中から1つ選び、記号で答えなさい。

- （ア） ホテル税  
（イ） ワンルームマンション税  
（ウ） レジ袋税  
（エ） ガソリン税

[3] 次の文章を読んで、あとの問いに答えなさい。

本日受験に臨んでいるみなさんの中には、「この入試が終わったら思う存分遊ぶぞ!」と、今から次の日曜日や祝日を楽しみにしている人も多くいることでしょう。

「祝日は多ければ多いほどよい! だって遊びたいもん!」

確かにそれは本音です。誰しも休みの日には思い切り羽を伸ばして楽しむか、ゆっくり休んで日頃の疲れをとりたいたいもの。でもちょっと待って下さい。週に1日の日曜日とは違って、「国民の祝日」には意識しておくべき一定の意義や背景があるのです。「国民の祝日に関する法律」の第1条では、次のように規定しています。

「自由と平和を求めてやまない日本国民は、美しい風習を育てつつ、よりよき社会、より豊かな生活を築きあげるために、ここに国民こぞって祝い、感謝し、又は記念する日を定め、これを『国民の祝日』と名づける。」

何を祝い、感謝し、記念するかは「祝日」ごとにさまざまですが、あまり意識して祝日を「お祝い」する人も少ないのではないのでしょうか。本問では、平成に入って度々改正された「国民の祝日に関する法律」をもとに、日頃何気なく過ごしている祝日の意義について考えてもらいたいと思います。

問1 「国民の祝日に関する法律」の改正で、「ハッピーマンデー」が制度化され、いくつかの祝日が月曜日に移されました。この「ハッピーマンデー」の対象になる祝日を、次の（ア）～（エ）の中から1つ選び、記号で答えなさい。

- （ア） 憲法記念日      （イ） こどもの日      （ウ） 敬老の日      （エ） 秋分の日

問2 次のカレンダーを見て、あとの(a)・(b)の問いに答えなさい。

2009年 5月 日 月 火 水 木 金 土 1 2 3 4 5 6 7 8 9 10 11 12 13 14 15 16 17 18 19 20 21 22 23 24 25 26 27 28 29 30 31	2009年 9月 日 月 火 水 木 金 土 1 2 3 4 5 6 7 8 9 10 11 12 13 14 15 16 17 18 19 20 21 22 23 24 25 26 27 28 29 30	2009年 11月 日 月 火 水 木 金 土 1 2 3 4 5 6 7 8 9 10 11 12 13 14 15 16 17 18 19 20 21 22 23 24 25 26 27 28 29 30
--	--	---

(a) 「国民の祝日に関する法律」の第3条第3項では、次のように規定しています。

その前日及び翌日が「国民の祝日」である日（「国民の祝日」でない日に限る。）は、休日とする。

これは通称「国民の休日」とよばれており、日曜日でも祝日でもないのに休みとなる日のことです。上記のカレンダーの中には、このような「国民の休日」として休みになる日が1日だけあります。その日を(ア)～(エ)の中から1つ選び、記号で答えなさい。

- (ア) 5月4日 (イ) 9月22日 (ウ) 11月2日 (エ) 11月24日

(b) 「国民の祝日に関する法律」の第3条第2項では、次のように規定しています。

「国民の祝日」が日曜日に当たるときは、その日後においてその日に最も近い「国民の祝日」でない日を休日とする。

これは普通「振り替え休日」とよばれる休日に関する規定ですが、上記の5月・9月・11月のカレンダーの中で、こうした「振り替え休日」にあたるのはどの日ですか。次の

(ア)～(エ)の中から1つ選び、記号で答えなさい。

- (ア) 5月6日 (イ) 9月20日 (ウ) 11月3日 (エ) 11月23日

問3 次の(ア)～(エ)は、「国民の祝日」の意味について定めた「国民の祝日に関する法律」の一部です。秋分の日を示しているものを、(ア)～(エ)の中から1つ選び、記号で答えなさい。

- (ア) 「自由と平和を愛し、文化をすすめる」  
(イ) 「自然をたたえ、生物をいつくしむ」  
(ウ) 「勤労をたっどび、生産を祝い、国民たがいに感謝しあう」  
(エ) 「祖先をうやまい、なくなった人々をしのぶ」

問4 昭和天皇の誕生日は、現在「昭和の日」として祝日となっています。しかし「国民の祝日に関する法律」が改正され、「昭和の日」が定められたのは平成17年（施行は19年）のことです。では、平成元年からそれまでの間、この「昭和の日」は何とよばれていたか、答えなさい。

[4] 次の文章を読んで、あとの問いに答えなさい。

地域を理解するために、さまざまな尺度によって地域を区分することがあります。たとえば都道府県単位でとらえることは、地域区分として単純でわかりやすい方法の1つです。また、関東地方や近畿地方のように日本を8地方で分ける方法も一般的ですが、「①甲信越」のようにそれ以外の区分も使うことがあります。これに対して、実際の生活圏としてとらえる場合には、中心となる大都市との結びつきの深さから「②首都圏」「中部圏」「関西圏」といった区分もよく使われます。最近では「③道州制」といって、都道府県をもっと大きな行政単位でまとめようとする意見も検討されています。すでに市町村単位では、④「平成の大合併」によって多くの市町村が統合されました。

一方、同じ特徴をもつ地域をひとつにまとめる方法もあります。⑤気候や⑥地形などの自然条件による区分、⑦人口の分布や動向による区分、⑧農業や⑨工業の特徴による区分などで、これらの方法により共通点ばかりでなく、相違点も明らかとなり、よりよく地域をとらえることができます。

問1 下線部①について、「甲信越」のうち、「信」にあたる県名を答えなさい。

問2 下線部②について、首都圏整備法では、関東地方の1都6県に中部地方の1県を含めて「首都圏」としています。この中部地方の県名を答えなさい。

問3 下線部③について、「道州制」を実施した場合に予想されることを述べた文としてふさわしくないものを、次の(ア)～(エ)の中から1つ選び、記号で答えなさい。

- (ア) 政府から地方への命令・伝達が円滑となり、中央政府の権限強化が期待できる。
- (イ) 公務員や地方議員を減らすことが可能となり、歳出の削減が期待できる。
- (ウ) 道州間で財政力に差が生じ、行政サービス面での格差拡大が予想される。
- (エ) 州境の策定などについて、住民の理解を得ることの難しさが予想される。

問4 下線部④について、市町村合併で誕生した新しい市の名称は、中心となる市の名称を受け継ぐ場合が多くなっていますが、次の2市の名称は新しくつくられたものです。

(a)・(b)の市の名称をそれぞれ答えなさい。

- (a) 2006年に2市2町1村が合併して誕生した市です。細長い盆地の南部に位置し、平安時代まで朝廷に反抗する勢力が支配していました。当時の国名の別称が新しい市の名称に採用されました。市の南に隣接する平泉町には、平安時代の後半に3代にわたって続いた豪族の繁栄の跡をしのばせる、中尊寺をはじめとした寺院や旧跡がみられます。
- (b) 2003年に4町1村が合併して誕生した市です。市の西部には3000メートル級の山々が連なり、扇状地の広がる東部にかけて市域が広がっています。公募で決定した市の名称はめずらしくカタカナを含んでいます。

問5 下線部⑤について、次の図1は日本の気候区分を示しています。図中の(ア)～(ク)はそれぞれの気候区に属する都市の位置を示します。あとの(a)・(b)にあたる都市を(ア)～(ク)の中から1つずつ選び、記号で答えなさい。

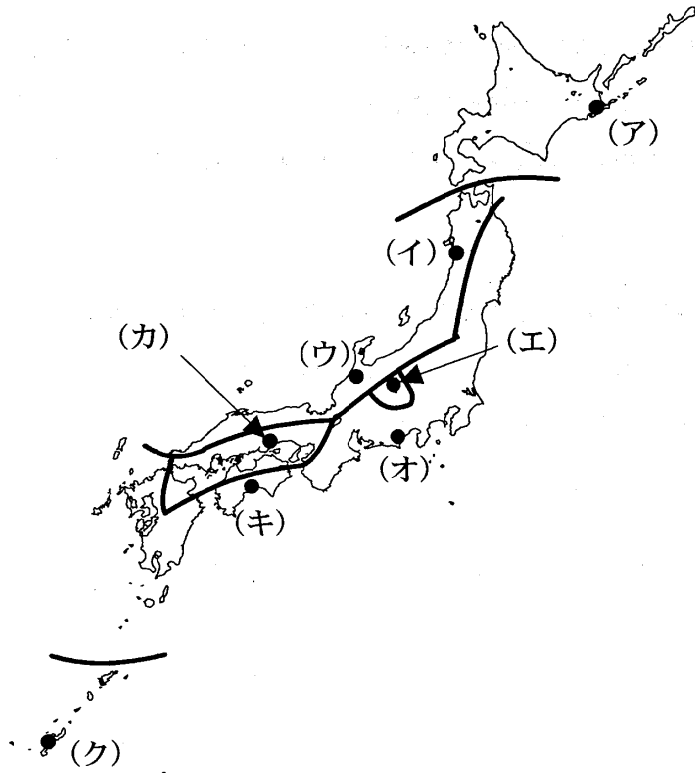


図1

- (a) 平均気温が0度以下になる月はない。9月の降水量は200ミリ以上に達するが、それ以上に12月や1月の降水量が多い。
- (b) 1年間で気温の較差は10度程度と小さい。降水量が200ミリを超える月が4か月もあるが、少ない月でも100ミリを下回ることはない。

問6 下線部⑥について、次の図2中のAは、日本の地形構造を分ける中央構造線の一部を示しています。これについて述べた文として誤っているものを、あとの(ア)～(エ)の中から1つ選び、記号で答えなさい。

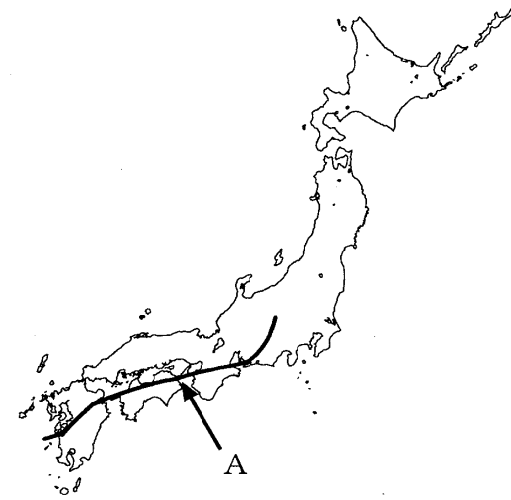


図2

- (ア) Aの東端は諏訪湖で糸魚川静岡構造線に交わっている。
- (イ) Aは主に大河川の流路に沿っている。
- (ウ) Aよりも太平洋側にある山地・山脈の方が日本海側のそれよりも険しい。
- (エ) Aよりも日本海側の地域には火山は分布していない。

問7 下線部⑥について、図3の斜線で囲んだ範囲は石狩川の集水域\*を示しています。これにならって、利根川の集水域を解答用紙の白地図に示しなさい。

\* 集水域：降った雨が、ある川に流れ込む範囲のことで、流域ともいう。



図3

問8 下線部⑦について、次の2つの表は、昼夜間人口比率\*が高いもの(表1)と低いもの(表2)を都道府県ごとに順に示しています。表中のA・Bにあてはまる道府県の組み合わせとして正しいものを、あとの(ア)～(エ)の中から1つ選び、記号で答えなさい。

\* 昼夜間人口比率：夜間人口を100とした場合の昼間人口の割合

表1 2005年

都道府県	昼夜間人口比率
東京	120.6
大阪	105.5
愛知	101.7
A	100.8
石川	100.3
広島	100.3

表2 2005年

都道府県	昼夜間人口比率
埼玉	87.5
千葉	88.5
B	88.7
神奈川	90.3
兵庫	95.1
岐阜	95.9

(表1・表2ともに 『データでみる県勢 2009』 より)

- (ア) A：北海道 B：沖縄 (イ) A：静岡 B：福岡  
 (ウ) A：三重 B：滋賀 (エ) A：京都 B：奈良

問9 下線部⑧について、次の図4は各都道府県の農業産出額(2006年)の1位の品目を表したものです。凡例のI～IVは米・野菜・果物・畜産のいずれかを示しています。図中のA～Cにあてはまる凡例の組み合わせとして正しいものを、あとの(ア)～(カ)の中から1つ選び、記号で答えなさい。

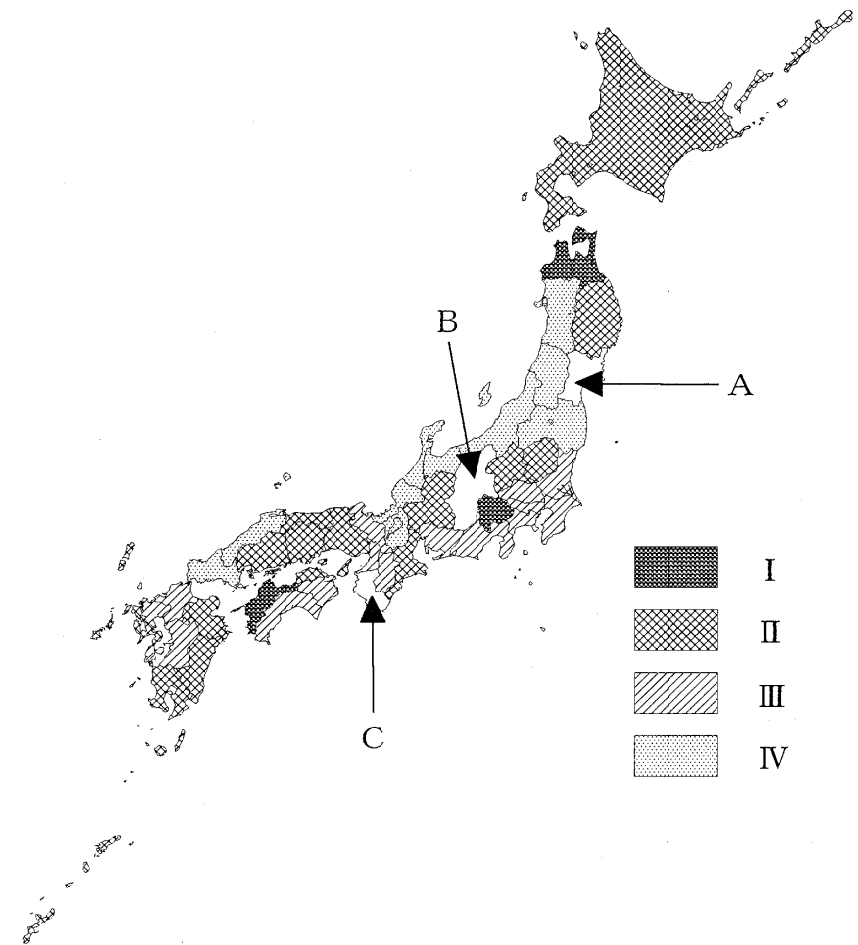


図4

(『データでみる県勢 2009』 より作成)

- (ア) A：I B：II C：III (イ) A：IV B：I C：II  
 (ウ) A：III B：IV C：I (エ) A：II B：III C：IV  
 (オ) A：II B：I C：III (カ) A：IV B：III C：I

問10 下線部⑨について、次の表3は、3大工業地帯とその他の工業地域の産業別出荷割合を表しています。表中のA～Dは金属・機械・化学・食料品工業のいずれかを示しています。BとCにあてはまる産業の組み合わせとして正しいものを、あとの(ア)～(カ)の中から1つ選び、記号で答えなさい。

表3 2006年 (%)

工業地帯・地域	A	B	C	D	その他
京 浜	49.4	17.3	8.8	8.4	16.1
中 京	67.7	6.1	10.1	4.3	11.8
阪 神	37.8	15.9	20.7	9.5	16.1
関東内陸	51.3	7.5	11.7	11.4	18.1
京 葉	15.5	42.1	19.7	11.5	11.2
東 海	55.1	7.9	8.1	12.5	16.4
瀬 戸 内	34.1	26.3	18.2	6.5	14.9
北九州	42.7	6.8	17.0	17.3	16.2

(『日本国勢図会 2009/10』より)

- (ア) B: 金属 C: 化学 (イ) B: 化学 C: 金属  
 (ウ) B: 機械 C: 食料品 (エ) B: 食料品 C: 金属  
 (オ) B: 金属 C: 機械 (カ) B: 化学 C: 食料品

問11 地域区分には次の3つの型があります。

- I: 都道府県のように形式的に区分したもの  
 II: 農業や工業のように特徴が共通するもので区分したもの  
 III: 中心となる場所との機能的な結びつきによって区分したもの

次の(ア)～(エ)の中からIIにあたるものとして、最もふさわしいものを1つ選び、記号で答えなさい。

- (ア) 公立小学校の学区 (イ) 電力会社の電力の供給範囲  
 (ウ) おろしうりぎょう卸売業の範囲 (エ) 人口の過密な地域

氏名

番

聖光学院中学校  
2010年度

# 第1回 入学試験 解答用紙 社会

【注意】 解答はすべて解答用紙に記入すること。

[ 1 ]

問 1	(1)		(2)		(3)		(4)	
	(5)		(6)		問 2	問 3	問 4	
問 5	問 6	問 7	問 8	問 9	問 10			

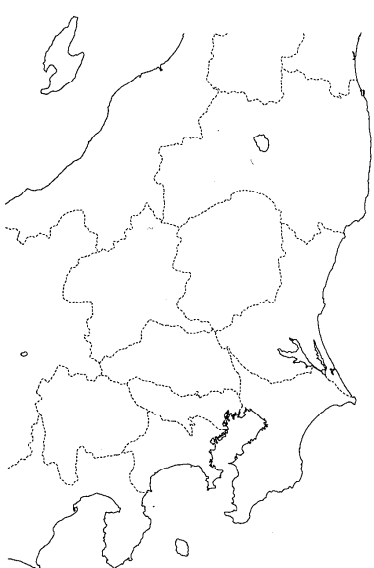
[ 2 ]

問 1	(1)		(2)					
問 2	(A)	(B)	(C)	(D)	問 3	問 4		
問 5				問 6	問 7	問 8		
問 9						問 10		

[ 3 ]

問 1	問 2	(a)	(b)	問 3	問 4		
--------	--------	-----	-----	--------	--------	--	--

[ 4 ]

問 1	問 2	問 3						
問 4	(a)	市	(b)	市	問 5	(a)	(b)	問 6
問 7					問 8	問 9		
					問 10	問 11		

得点合計